


ELIMINACJE SZKOLNE XLIII OLIMPIADA ARTYSTYCZNA



TEST WIEDZY O SZTUCE SEKCJA HISTORII SZTUKI



(pieczęć szkoły, w której odbywają się eliminacje)

(imię i nazwisko ucznia)

(klasa)

(nazwa i adres szkoły ucznia)

UWAGA!

Przeczytaj uważnie polecenia zawarte w sprawdzianie. Pisz starannie.
Za każde prawidłowo rozwiązane zadanie uzyskuje się **1 punkt**.

Powodzenia!



Stowarzyszenie Przyjaciół
Olimpiady Artystycznej

MINISTERSTWO
EDUKACJI
NARODOWEJ



ZADANIE 1

W których miastach znajdują się słynne muzea sztuki?
Połącz kreską nazwę muzeum z miastem.

0-1 pkt

Muzea Kapitolińskie ~~Berlin~~
Prado ~~Madryt~~
Muzeum Pergamońskie ~~Rzym~~

ZADANIE 2

W którym florenckim kościele znajduje się fresk Masaccia *Trójca Święta* (*Tron Łaski*)? Podkreśl nazwę właściwego kościoła.

0-1 pkt

Santa Maria Novella

Santo Spirito

San Lorenzo

ZADANIE 3

Podkreśl właściwą definicję terminu PILASTER.

0-1 pkt

Płaski filar przyścienny, pełniący funkcję podpory i dekoracyjnego rozczłonkowania ścian.

Płytkie, wklęsłe pionowe wyżłobienia, zdobiące na całej długości trzon kolumny lub pilastra.

Pionowa, wolno stojąca podpora konstrukcji architektonicznej.

ZADANIE 4

Ustal chronologię wymienionych dzieł sztuki, wpisując obok nich cyfry od 1 do 3, przy czym dzieło sztuki oznaczone cyfrą 1 ma być najstarsze.

0-1 pkt

Michał Anioł Buonarroti, *Sąd Ostateczny*,
fresk w Kaplicy Sykstyńskiej na Watykanie 3

Leonardo da Vinci, *Ostatnia wieczerza*,
malowidło ściennie w refektarzu klasztoru przy bazylice
Santa Maria delle Grazie w Mediolanie 1

Rafaël, *Szkoła Ateńska*, fresk w Stanza della Segnatura
w Pałacu Watykańskim 2

ZADANIE 5

Który z wymienionych malarzy holenderskich specjalizował się w gatunku martwej natury? Podkreśl jedno nazwisko.

0-1 pkt

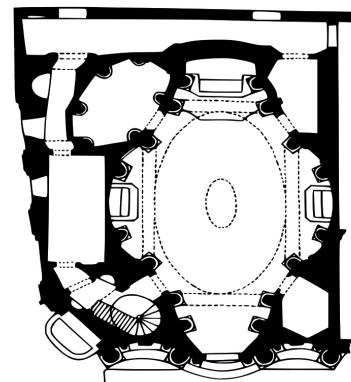
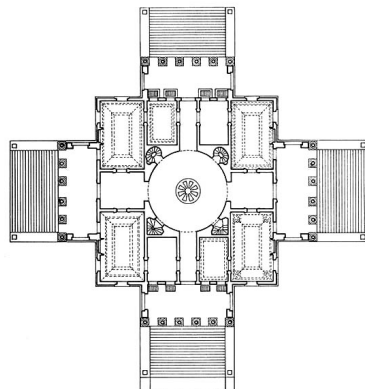
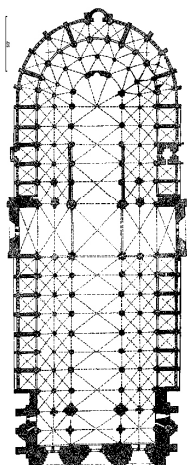
Willem Claeszoon Heda

Frans Hals

Gabriel Metsu

ZADANIE 6

Który z planów budowli (A, B, C) powstał w XVII wieku?
Podkreśl właściwe oznaczenie.



0-1 pkt

A

B

C

ZADANIE 7

Do którego ugrupowania artystycznego należeli wymienieni poniżej artyści:
J. Czapski, J. Jarema, A. Nacht-Samborski, H. Rudzka-Cybisowa, P. Potworowski,
Z. Waliszewski? Podkreśl właściwą nazwę.

0-1 pkt

Formiści Polscy

Komitet Paryski

Rytm

ZADANIE 8

W której epoce powstały malowidła ściennie w jaskini w Lascaux? Podkreśl
nazwę właściwej epoki.

0-1 pkt

neolit

paleolit

epoka brązu

ZADANIE 9

Jakie wydarzenie historyczne upamiętnia obraz Eugène'a Delacroix *Wolność
wiodąca lud na barykady*? Podkreśl właściwą nazwę.

0-1 pkt

rewolucja lipcowa

rewolucja francuska

rewolucja marcowa

ZADANIE 10

Sąd Ostateczny Hansa Memlinga jest:

0-1 pkt

dyptykiem

tryptykiem

pentaptykiem

Podkreśl właściwą nazwę.

ZADANIE 11

Podkreśl nazwiska dwóch artystów tworzących w nurcie neoimpresjonizmu.

0-1 pkt

Maurice Vlaminck

Georges Seurat

Paul Signac

Paul Gauguin

Edgar Degas

Vincent van Gogh

ZADANIE 12 Twórcą nagrobka Zygmunta Augusta w kaplicy Zygmuntowskiej w katedrze na Wawelu był:

Bartolomeo Berrecci **Santi Gucci** **Francesco Placidi**

Podkreśl właściwe nazwisko.

ZADANIE 13 *Fête galante* to rodzaj obrazów przedstawiających:

sceny wytwornych zabaw dworskich i koncertów

sceny zabaw chłopskich

martwe natury z owocami

Podkreśl właściwą nazwę.

ZADANIE 14 W jakich latach żyli wybitni polscy malarze? Połącz kreską nazwisko malarza z właściwymi datami życia.

Stanisław Wyspiański ~~1838–1893~~

Jan Matejko ~~1869–1907~~

Jacek Malczewski 1854–1929

ZADANIE 15 Kto ufundował pierwszą Bazylikę św. Piotra w Rzymie? Podkreśl imię właściwego cesarza.

Konstantyn Wielki **Justynian I Wielki** **Teofil**

ZADANIE 16 Słynna bizantyńska mozaika przedstawiająca *Chrystusa jako Dobrego Pasterza* z 1 poł. V wieku znajduje się w Rawennie w:

Mauzoleum Galli Placydii **Bazylice San Vitale** **Oratorium Arian**

Podkreśl właściwą odpowiedź.

ZADANIE 17 W którym okresie sztuki greckiej powstał posąg *Nike z Samotraki*? Podkreśl nazwę właściwej epoki.

okres klasyczny **okres hellenistyczny** **okres archaiczny**



ZADANIE 18 Niello to technika stosowana w:

snycerstwie złotnictwie grafice

0-1 pkt

Podkreśl właściwą nazwę.

ZADANIE 19 W jakim czasie powstały słynne malowidła? Połącz kreską tytuł obrazu z datą jego powstania.

C. D. Friedrich, *Wędrowiec nad morzem mgły* ~~1844~~

W. Turner, *Deszcz, para, szybkość* ~~1818~~

0-1 pkt

A. Gieryski, *Święto trąbek (wersja z Muzeum Narodowego w Warszawie)* ~~1884~~

ZADANIE 20 Kardynał Francesco Maria del Monte był protektorem i mecenasem:

Caravaggia Tycjana Diego Velázquez

0-1 pkt

Podkreśl właściwego artystę.

ZADANIE 21 Tzw. Krzywa Wieża przy kompleksie katedralnym w Pizie jest:

dzwonnica baptysterium kaplicą cmentarną

0-1 pkt

Podkreśl właściwą odpowiedź.

ZADANIE 22 Koloseum służyło w czasach rzymskich jako:

teatr amfiteatr termy

0-1 pkt

Podkreśl właściwą odpowiedź.

ZADANIE 23 Sztuka krytyczna to nurt powojennej sztuki w Polsce, który powstał w latach:

50. XX wieku 70. XX wieku 90. XX wieku

0-1 pkt

Podkreśl właściwą odpowiedź.

ZADANIE 24 W którym obrazie został zastosowany trik optyczny zwany anamorfozą? Podkreśl tytuł obrazu.

H. Holbein, Portret Ambasadorów

J. van Eyck, *Małżeństwo Arnolfinich*

0-1 pkt

J. Vermeer, *Widok Delft*



ZADANIE 25

Podaj imię świętego katolickiego przedstawionego w rycinie.



odpowiedź:

Święty Jerzy

0-1 pkt

ZADANIE 26

Kwatery *Drzwi Gnieźnieńskich* dekorowane są przedstawieniami ilustrującymi:

Pasję Chrystusa

dzieje św. Wojciecha

dzieje św. Stanisława

0-1 pkt

Podkreśl właściwą odpowiedź.

ZADANIE 27

W której z wymienionych rzeźb występuje układ postaci zwany kontrapostem? Podkreśl jeden zabytek.

Apollonios, *Tors Belwederski*

Poliklet, *Doryforos*

Giambologna, *Merkury*

0-1 pkt

ZADANIE 28

Malarzem, który żył w czasach Dantego, był:

Botticelli

Michał Anioł

Giotto

0-1 pkt

Podkreśl nazwisko lub pseudonim właściwego artysty.

ZADANIE 29

W którym stuleciu powstały *Bardzo bogate godzinki księcia de Berry*?
Podkreśl właściwe stulecie.

0-1 pkt

XIV

XV

XVI

ZADANIE 30

Który z wymienionych zabytków to kościół halowy? Podkreśl właściwy zabytek.

0-1 pkt

bazylika Mariacka w Gdańsku

kościół Mariacki w Krakowie


kolegiata w Tumie pod Łęczycą



WERYFIKACJA TESTU W SZKOLE:

Ogólna liczba
punktów:

0-30 pkt



(pieczęć szkoły)

(podpis osoby sprawdzającej)

(miejsowość)

(data)

WERYFIKACJA TESTU W KOMITECIE OKRĘGOWYM OA:

Liczba punktów
po weryfikacji:

0-30 pkt



(pieczęć szkoły)

(podpis osoby sprawdzającej)

(miejsowość)

(data)



KOMITET GŁÓWNY OLIMPIADY ARTYSTYCZNEJ

WARSZAWA 2018