

ELIMINACJE SZKOLNE

XLVIII Olimpiada Artystyczna



Test wiedzy o sztuce sekcja historii sztuki

imię i nazwisko ucznia

klasa

nazwa i adres szkoły


UWAGA! Przeczytaj uważnie polecenia zawarte w teście. Pisz starannie i bez skreśleń. Za każde prawidłowo rozwiązane zadanie (konieczne jest rozwiązanie wszystkich elementów zadania) uzyskujesz 1 punkt. Odpowiedzi zaznaczaj „X” w polach

Powodzenia!



Ministerstwo
Edukacji i Nauki

Stowarzyszenie Przyjaciół
Olimpiady Artystycznej



pieczęć szkoły, w której odbywają się eliminacje

PYTANIE 1

Na obrazie Hansa Holbeina *Portret ambasadorów* z 1533 roku w anamorfozie (przekształceniu perspektywicznym) przedstawiono:

0-1 pkt

- krucyfiks **ludzką czaszkę** klepsydrę

Zaznacz poprawną odpowiedź.

PYTANIE 2

Osiem wielkoformatowych obrazów Claude'a Moneta tworzących cykl pt. „Lilie wodne” od 1927 roku eksponowanych jest w:

0-1 pkt

- Musée de l'Orangerie w Paryżu**
 Musée d'Orsay w Paryżu
 w przekształconym na muzeum domu malarza w Giverny

Zaznacz poprawną odpowiedź.

PYTANIE 3

Antoine Watteau wyspecjalizował się w gatunku malarskim zwanym:

0-1 pkt

- fête galante**
 kaprys architektoniczny
 marina

Zaznacz poprawną odpowiedź.

PYTANIE 4

Pentaptyk to:

0-1 pkt

- nastawa ołtarzowa składająca się z części środkowej i jednej pary skrzydeł
 nastawa ołtarzowa składająca się z części środkowej i dwóch par skrzydeł
 wielkoformatowy, pojedynczy obraz ołtarzowy

Zaznacz poprawną odpowiedź.

PYTANIE 5

Który z wymienionych malarzy był uczniem Jana Matejki?

0-1 pkt

- Aleksander Gierymski
 Józef Mehoffer
 Henryk Siemiradzki

Zaznacz poprawną odpowiedź.

PYTANIE 6

„Grupa Nawiedzenia”, dzieło tzw. Mistrza Figur Antycznych z XIII wieku, umieszczona jest na portalu katedry Notre Dame w:

0-1 pkt

- Chartres **Reims** Paryżu

Zaznacz poprawną odpowiedź.

PYTANIE 7

Kaplicę Zygmuntowską na Wawelu konsekrowano w roku:

0-1 pkt

- 1433 1533 1633

Zaznacz poprawną odpowiedź.

PYTANIE 8

Malowidła naskalne w grocie w Lascaux powstały w epoce:

0-1 pkt

- neolitu paleolitu brązu

Zaznacz poprawną odpowiedź.

PYTANIE 9

Kto był fundatorem kaplicy zwanej Capella dell'Arena w Padwie, dekorowanej malowidłami ściennymi Giotta?

0-1 pkt

- Lorenzo Medici
 Ludovico Sforza
 Enrico Scrovegni

Zaznacz poprawną odpowiedź.

PYTANIE 10

Dla kogo wykonana była solniczka z postaciami Posejdon i Demeter, dzieło Benvenuto Celliniego z lat 1540–1543?

0-1 pkt

- króla Francji Franciszka I
 króla Anglii Henryka VIII
 papieża Pawła III

Zaznacz poprawną odpowiedź.

PYTANIE 11

W podobnym czasie co Ołtarz Mariacki w Krakowie, dzieło Veita Stossa, powstawał:

0-1 pkt

- „Ołtarz Gandawski” Jana van Eycka
 „Portret Cecylii Gallerani” (tzw. „Dama z gronostajem”) Leonarda da Vinci
 „Ukrzyżowanie” Matthiasa Grünewalda

Zaznacz poprawną odpowiedź.

PYTANIE 12

Jak nazywało się ugrupowanie artystyczne, które współtworzyli wymienieni artyści: Leon Chwistek, Tytus Czyżewski, Andrzej Pronaszko, August Zamoyski i inni?

0-1 pkt

- Formiści
 Kapiści
 Grupa Krakowska

Zaznacz poprawną odpowiedź.

PYTANIE 13

Mauzoleum Galli Placydii w Rawennie to budowla centralna na planie:

0-1 pkt

- krzyża o równych ramionach
- koła
- oktagonu

Zaznacz poprawną odpowiedź.

PYTANIE 14

Tzw. Krzywa Wieża w kompleksie katedralnym w Pizie pełniła funkcję:

0-1 pkt

- dzwonnicy
- baptysterium
- kaplicy cmentarnej

Zaznacz poprawną odpowiedź.

PYTANIE 15

Temat obrazu „Tratwa Meduzy” Théodore’a Géricaulta z 1819 roku nawiązuje do:

0-1 pkt

- legendarnej historii początków Rzymu
- mitologii greckiej
- wydarzeń historycznych z 1816 roku

Zaznacz poprawną odpowiedź.

PYTANIE 16

Technika zdobnicza, zwana repusowaniem (trybowaniem), polega na:

0-1 pkt

- wybijaniu wgłębień w blachach, w wyniku czego powstaje na metalu wypukły wzór
- wybijaniu dekoracyjnych wzorów za pomocą metalowych punc
- wypełnieniu wzoru wrytego w metalu pastą w celu uzyskania rysunku kontrastującego z tłem

Zaznacz poprawną odpowiedź.

PYTANIE 17

W czasach, gdy powstała wieża Eiffla, w Paryżu mieszkał i tworzył:

0-1 pkt

- Pablo Picasso
- Henri de Toulouse-Lautrec
- Jean-Auguste-Dominique Ingres

Zaznacz poprawną odpowiedź.

PYTANIE 18

Kaplica pałacowa Karola Wielkiego znajduje się w:

0-1 pkt

- Trewirze
- Akwizgranie
- Kolonii

Zaznacz poprawną odpowiedź.

PYTANIE 19

W jakim polskim muzeum znajdują się dwa obrazy Rembrandta „Dziewczyna w ramie obrazu” i „Starzec przy pulpicie”?

0-1 pkt

- Muzeum Narodowe w Warszawie
- Zamek Królewski na Wawelu
- Zamek Królewski w Warszawie

Zaznacz poprawną odpowiedź.

PYTANIE 20

Sztukaterie to dekoracje architektury wykonane z:

0-1 pkt

- drewna
- gipsu
- marmuru

Zaznacz poprawną odpowiedź.

PYTANIE 21

Który z wymienionych artystów był wybitnym polskim plakacistą?

0-1 pkt

- Waldemar Świerzy
- Tadeusz Kantor
- Andrzej Wróblewski

Zaznacz poprawną odpowiedź.

PYTANIE 22

Maesta to typ ikonograficzny przedstawiający:

0-1 pkt

- tronującą Madonnę z Dzieciątkiem
- Chrystusa tronującego na kuli ziemskiej
- Świętą Rodzinę

Zaznacz poprawną odpowiedź.

PYTANIE 23

Który z wymienionych artystów był przedstawicielem tzw. *action painting*, nurtu w malarstwie amerykańskim XX wieku?

0-1 pkt

- Mark Rothko
- Willem de Kooning
- Andy Warhol

Zaznacz poprawną odpowiedź.

PYTANIE 24

Technologię wyrobu europejskiej porcelany opracowano w wieku:

0-1 pkt

- XVI
- XVII
- XVIII

Zaznacz poprawną odpowiedź.

PYTANIE 25

Który z wymienionych malarzy był również wybitnym rytownikiem:

0-1 pkt

- Albrecht Dürer
- Hans Holbein Młodszy
- Matthias Grünewald

Zaznacz poprawną odpowiedź.

PYTANIE 26

Kolory podstawowe to:

0-1 pkt

- zielony, czerwony, niebieski
- czerwony, żółty, niebieski
- czarny, biały, szary

Zaznacz poprawną odpowiedź.

PYTANIE 27

Atrybutem św. Katarzyny Aleksandryjskiej jest:

0-1 pkt

- wieża
- koło
- jednorożec

Zaznacz poprawną odpowiedź.

PYTANIE 28

Rzeźba Auguste'a Rodina „Myśliciel” stanowi element:

0-1 pkt

- „Bramy piekieł” – drzwi zamówionych do Musée des Arts Décoratifs w Paryżu
- grupy rzeźbiarskiej „Mieszczanie z Calais”
- grupy rzeźbiarskiej „Trzy cienie”

Zaznacz poprawną odpowiedź.

PYTANIE 29

Który z wymienionych artystów oprócz twórczości artystycznej podejmował się również misji dyplomatycznych?

0-1 pkt

- Peter Paul Rubens
- Pieter Brueghel Starszy
- Johannes Vermeer

Zaznacz poprawną odpowiedź.

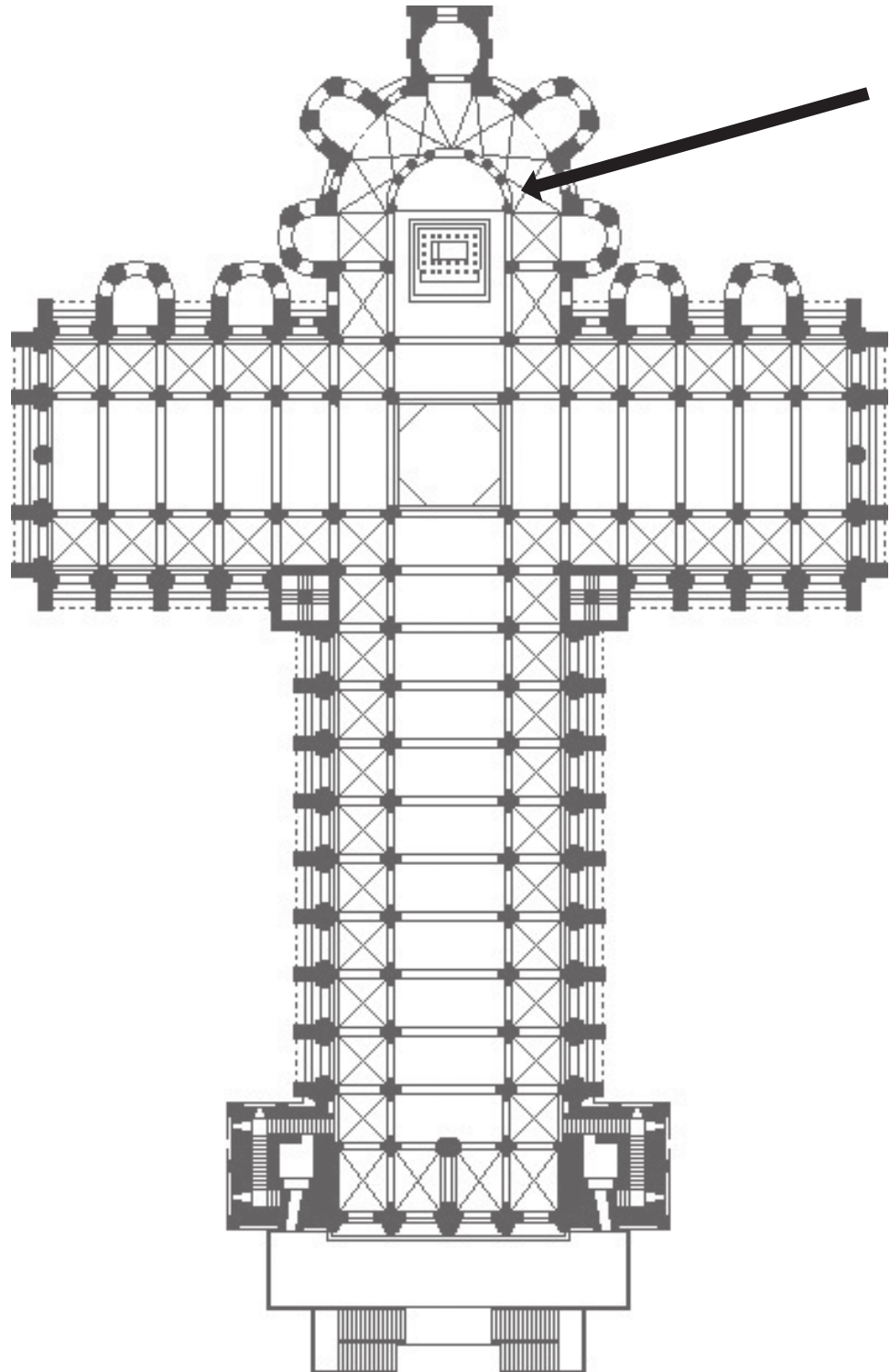
PYTANIE 30

Na poniższym planie architektonicznym część oznaczona strzałką to:

- transept
- obejście
- absyda

0-1 pkt

Zaznacz poprawną odpowiedź.



PYTANIE 31

Jaką funkcję w zespołach klasztornych pełniło pomieszczenie zwane wirydarzem?

0-1 pkt

- jadalni
- sypialni
- ogrodu

Zaznacz poprawną odpowiedź.

PYTANIE 32

Pierwszy opis zasad perspektywy linearnej ukazał się w traktacie „O malarstwie” autorstwa:

0-1 pkt

- Giorgia Vasariego
- Leona Battisty Albertiego
- Leonarda da Vinci

Zaznacz poprawną odpowiedź.

PYTANIE 33

Z półszlachetnego kamienia lapis lazuli uzyskiwano w dawnym malarstwie pigment o kolorze:

0-1 pkt

- zielonym
- czerwonym
- niebieskim

Zaznacz poprawną odpowiedź.

PYTANIE 34

Przedstawiony na rysunku motyw dekoracyjny to:

0-1 pkt

- meander
- palmeta
- groteska

Zaznacz poprawną odpowiedź.




PYTANIE 35

Do jakiego porządku architektonicznego należy przedstawiona na rysunku kolumna?

0-1 pkt

- kompozytowego
- korynckiego
- jońskiego

Zaznacz poprawną odpowiedź.




PYTANIE 36

Wskazany strzałką element portalu to:

0-1 pkt

- tympanon
- archiwolta
- nadproże

Zaznacz poprawną odpowiedź.



PYTANIE 37

Litografia to technika graficzna charakteryzująca się drukiem:

0-1 pkt

- płaskim
- wklęsłym
- wypukłym

Zaznacz poprawną odpowiedź.

PYTANIE 38

Który z angielskich artystów malował widoki Wenecji, inspirując swoimi dziełami impresjonistów:

0-1 pkt

- John Constable
- Joseph Mallord William Turner
- Thomas Gainsborough

Zaznacz poprawną odpowiedź.

PYTANIE 39

W 2022 roku na Biennale w Wenecji Polskę reprezentowała artystka:

0-1 pkt

- Małgorzata Mirga-Tas
- Katarzyna Kozyra
- Aleksandra Waliszewska

Zaznacz poprawną odpowiedź.

PYTANIE 40

Muzeum Sztuki w Łodzi powstało w roku:

0-1 pkt

- 1950
- 1900
- 1930

Zaznacz poprawną odpowiedź.



XLVIII Olimpiada Artystyczna

Weryfikacja testu w szkole:

ogólna liczba punktów (0–40 pkt)

podpis osoby sprawdzającej

miejsowość

data

pieczęć szkoły

Weryfikacja testu w Komitecie Okręgowym OA:

ogólna liczba punktów (0–40 pkt)

podpis osoby sprawdzającej

miejsowość

data

pieczęć szkoły